

f1 celé a1 půlové ges 2 čtvrté cis 2 osminové es 1 osminové a malé celé d1 na tři doby c3 celé

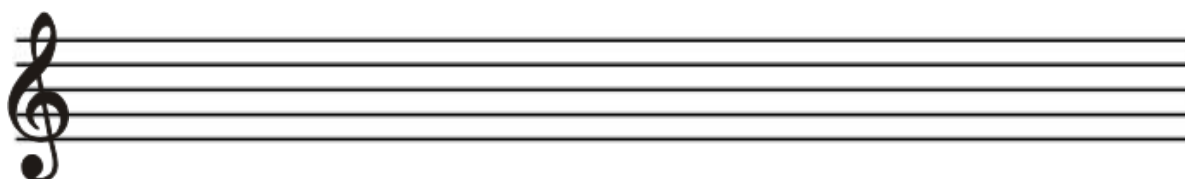
Doplň předznamenání:

C dur..... E dur F dur H dur..... Es dur


B dur As dur D dur Cis dur G dur

Která durová stupnice má: 3# 6# 7b ?

Napiš stupnici H dur a kvintakord H dur:



Jak se jmenují obraty kvintakordu:


Napiš na notovou osnovu kvintakord D dur  a jeho obraty:

Utvoř čisté a velké intervaly od zadaných tónů:



sexta velká kvinta čistá oktáva čistá sekunda velká kvarta čistá tercie velká septima velká prima čistá

Napiš správná jména intervalů (obě!), budeš potřebovat tyto "přívlastky": velká, malá, čistá, zvětšená, zmenšená.

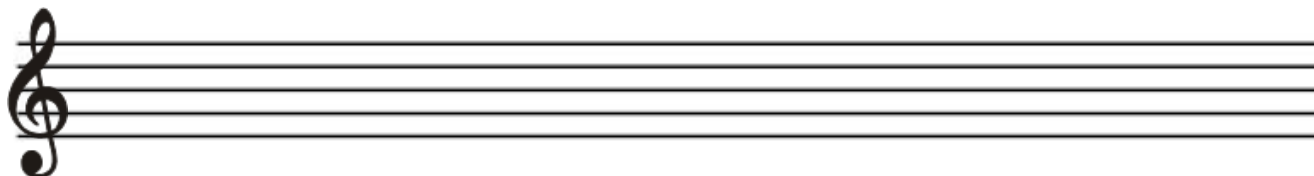


.....

Doplň předznamenání mollových stupnic:

c moll e moll..... b moll..... h moll..... cis moll..... d moll g moll.....

Na notovou osnovu napiš stupnici f moll harmonickou:



Napiš tónický, subdominantní a dominantní kvintakord v tónině G dur:

